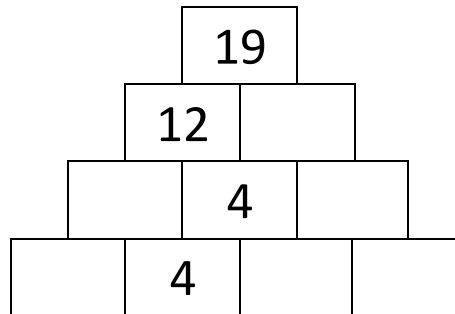
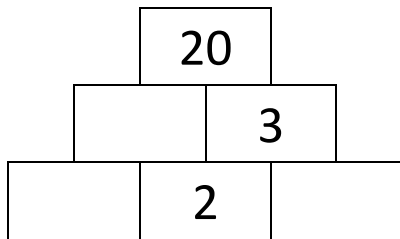
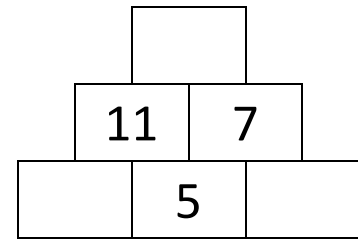
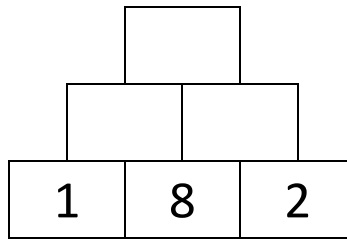
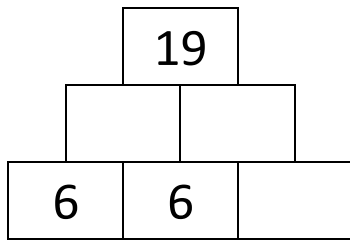


MATEMATIKA, 2.B

Středa 14. 10.	<p>- součtové pyramidy (najdeš v příloze na dalším papíru) - vypočítej a nalep si do sešitu</p> <p>- porovnávání příkladů – napiš si do „šnečího sešitu“:</p> <table style="margin-left: auto; margin-right: auto;"><tr><td>$12 + 4$</td><td>$10 - 4$</td></tr><tr><td>$13 + 5$</td><td>$19 - 6$</td></tr><tr><td>$8 + 7$</td><td>$7 + 8$</td></tr><tr><td>$10 + 9$</td><td>$18 - 7$</td></tr><tr><td>$6 + 9$</td><td>$11 + 7$</td></tr></table>	$12 + 4$	$10 - 4$	$13 + 5$	$19 - 6$	$8 + 7$	$7 + 8$	$10 + 9$	$18 - 7$	$6 + 9$	$11 + 7$		
$12 + 4$	$10 - 4$												
$13 + 5$	$19 - 6$												
$8 + 7$	$7 + 8$												
$10 + 9$	$18 - 7$												
$6 + 9$	$11 + 7$												
Čtvrtek 15. 10.	<p>- slovní úlohy (najdeš v příloze na dalším papíru) - vypočítej, odpověz na všechny otázky a nalep si do „šnečího sešitu“</p> <p>- Hravý počteník 1 – strana 30, první dva sloupečky</p>												
Pátek 16. 10.	<p>- najdi a oprav chybné výsledky (opravuj přímo na tomto papíře)</p> <table style="margin-left: auto; margin-right: auto;"><tr><td>$15 + 3 = 19$</td><td>$5 + 9 = 15$</td></tr><tr><td>$18 - 6 = 11$</td><td>$9 + 9 = 19$</td></tr><tr><td>$9 + 7 = 16$</td><td>$11 + 6 = 17$</td></tr><tr><td>$19 - 6 = 12$</td><td>$10 - 3 = 6$</td></tr><tr><td>$10 + 6 = 17$</td><td>$3 + 8 = 12$</td></tr><tr><td>$13 + 5 = 18$</td><td>$7 + 4 = 11$</td></tr></table> <p>- pracovní sešit 2, 1. díl - strana 3, cvičení 11</p>	$15 + 3 = 19$	$5 + 9 = 15$	$18 - 6 = 11$	$9 + 9 = 19$	$9 + 7 = 16$	$11 + 6 = 17$	$19 - 6 = 12$	$10 - 3 = 6$	$10 + 6 = 17$	$3 + 8 = 12$	$13 + 5 = 18$	$7 + 4 = 11$
$15 + 3 = 19$	$5 + 9 = 15$												
$18 - 6 = 11$	$9 + 9 = 19$												
$9 + 7 = 16$	$11 + 6 = 17$												
$19 - 6 = 12$	$10 - 3 = 6$												
$10 + 6 = 17$	$3 + 8 = 12$												
$13 + 5 = 18$	$7 + 4 = 11$												
Pondělí 19. 10.	<p>- napiš si do „šnečího sešitu“ tyto úlohy a vypočítej je:</p> <table style="margin-left: auto; margin-right: auto;"><tr><td>$12 + 4 =$</td><td>$19 - 7 =$</td></tr><tr><td>$10 + 7 =$</td><td>$14 + 4 =$</td></tr><tr><td>$11 + 3 =$</td><td>$7 + 9 =$</td></tr><tr><td>$20 - 7 =$</td><td>$6 + 7 =$</td></tr><tr><td>$5 + 9 =$</td><td>$12 - 2 =$</td></tr><tr><td>$8 + 4 =$</td><td>$18 - 7 =$</td></tr></table>	$12 + 4 =$	$19 - 7 =$	$10 + 7 =$	$14 + 4 =$	$11 + 3 =$	$7 + 9 =$	$20 - 7 =$	$6 + 7 =$	$5 + 9 =$	$12 - 2 =$	$8 + 4 =$	$18 - 7 =$
$12 + 4 =$	$19 - 7 =$												
$10 + 7 =$	$14 + 4 =$												
$11 + 3 =$	$7 + 9 =$												
$20 - 7 =$	$6 + 7 =$												
$5 + 9 =$	$12 - 2 =$												
$8 + 4 =$	$18 - 7 =$												
Úterý 20. 10.	<p>- Hravý počteník 1 – strana 30, třetí sloupeček - napiš si do „šnečího sešitu“ tyto úlohy a vypočítej je:</p> <table style="margin-left: auto; margin-right: auto;"><tr><td>$5 + 4 + 6 =$</td><td>$8 + 3 + 5 =$</td></tr><tr><td>$7 + 3 + 10 =$</td><td>$19 - 2 - 7 =$</td></tr><tr><td>$9 + 3 + 7 =$</td><td>$18 - 4 - 3 =$</td></tr><tr><td>$2 + 6 + 8 =$</td><td>$16 - 6 - 4 =$</td></tr><tr><td>$4 + 4 + 4 =$</td><td>$9 + 0 + 9 =$</td></tr></table>	$5 + 4 + 6 =$	$8 + 3 + 5 =$	$7 + 3 + 10 =$	$19 - 2 - 7 =$	$9 + 3 + 7 =$	$18 - 4 - 3 =$	$2 + 6 + 8 =$	$16 - 6 - 4 =$	$4 + 4 + 4 =$	$9 + 0 + 9 =$		
$5 + 4 + 6 =$	$8 + 3 + 5 =$												
$7 + 3 + 10 =$	$19 - 2 - 7 =$												
$9 + 3 + 7 =$	$18 - 4 - 3 =$												
$2 + 6 + 8 =$	$16 - 6 - 4 =$												
$4 + 4 + 4 =$	$9 + 0 + 9 =$												

<p>Středa 21. 10.</p>	<p>- pracovní sešit 2, 1. díl - strana 1</p>
<p>Čtvrtek 22. 10.</p>	<p>- pracovní sešit 2, 1. díl - strana 2, cvičení 5 a 7 - Hravý počteník 1 – strana 31, první dva sloupečky</p>
<p>Pátek 23. 10.</p>	<p>- Hravý počteník 1 – strana 31, třetí sloupeček - doplň do číselné řady chybějící čísla: 10, 11, __, __, __, 15, __, 17, 18 2, __, 6, __, 10, __, 14, __, 18, 20 9, 8, __, __, __, 4, 3, __, __ 3, 6, 9, __, 15, __ 20, 30, __, __, __, 70, 80, __, 100 - pracovní sešit 2, 1. díl - strana 2, cvičení 6</p>

- SOUČTOVÉ PYRAMIDY (STŘEDA 14.10.)



- SLOVNÍ ÚLOHY (ČTVRTEK 15.10.)

Natálce je 5 let. Její bratr Ríša je o 6 let starší. Kolik je Ríšovi let?

VYPOČÍTEJ:

ODPOVĚZ: _____

Kristiánovi je 10 let. Má o tři roky mladší sestru Libušku. Kolik let je Libušce? Kolik let je oběma dohromady?

VYPOČÍTEJ:

ODPOVĚZ: _____

ČaJS, 2.B

- učebnice strana 8 a 9 – přečíst a na základě toho udělat PS na straně 9 a 10